
 <b>03100759</b>		Geografía (PCE)		100
		PRUEBA DE ACCESO A LA UNIVERSIDAD		
Junio - 2017	Duración: 90 min.	EXAMEN: Tipo - Mixto	MODELO 05	
Ninguno				Hoja 1 de 5

MODELO 5

**INSTRUCCIONES GENERALES**



- El examen consta de tres partes de contestación obligatoria cada una de ellas
- No está autorizado el uso de ningún tipo de material.
- Las respuestas deben realizarse en español.

**Criterios generales de evaluación:**

- En la prueba objetiva el acierto en la respuesta.
- En las preguntas de desarrollo: el ajuste de la respuesta a lo preguntado, la precisión de los términos geográficos, el orden expositivo, la ortografía y corrección sintáctica.
- En la práctica: el análisis y la interpretación concisa del gráfico o mapa de que se trate, así como la localización y enumeración correcta de los aspectos geográficos preguntados, siguiendo el esquema que se le proponga o su propio criterio si no se le indica otra cosa, así como la ortografía y la corrección sintáctica.



La puntuación final será el resultado de la suma de los tres apartados:

- La prueba objetiva ponderará el 30% de la nota total del examen.
- La prueba de desarrollo ponderará el 40% de la nota total del examen.
- La prueba práctica ponderará el 30% de la nota total del examen.
- **NO OLVIDE ENTREGAR EL ENUNCIADO**

 <b>03100759</b>		Geografía (PCE)		100
		PRUEBA DE ACCESO A LA UNIVERSIDAD		
Junio - 2017	Duración: 90 min.	EXAMEN: Tipo - Mixto	MODELO 05	
Ninguno				Hoja 2 de 5

**PRUEBA OBJETIVA**  
**SEÑALE LA OPCIÓN CORRECTA EN FUNCIÓN DEL ENUNCIADO**  
**(CONTESTE EN LA HOJA DE LECTURA ÓPTICA QUE SE LE ENTREGARÁ CON EL EXAMEN)**

1. En cartografía los colores verdes indican
  - a) Un área libre de contaminación
  - b) Tierras fértiles
  - c) Áreas con altitudes sobre el nivel del mar poco elevadas (<200 m)**
  
2. La configuración del relieve español, tal y como hoy la apreciamos, es el resultado de
  - a) La orogenia herciniana
  - b) La orogenia alpina, si bien quedan evidencias de la orogenia herciniana en algunos lugares**
  - c) La orogenia caledoniana
  
3. El clima oceánico peninsular se caracteriza por
  - a) Precipitaciones elevadas y sequía estival
  - b) Precipitaciones regulares todo el año
  - c) Precipitaciones anuales superiores a 900 mm y veranos con menor volumen de precipitación que en el invierno**
  
4. Las olas de calor están asociadas a situaciones atmosféricas del
  - a) Levante
  - b) Sur**
  - c) Suroeste
  
5. ¿Dónde podemos encontrar precipitaciones >1000 mm anuales en España?
  - a) Solo en la costa cantábrica
  - b) En la costa cantábrica, atlántica gallega y áreas de montaña**
  - c) En ninguna región de España se registran precipitaciones tan elevadas
  
6. La sierra del Guadarrama forma parte del
  - a) Sistema Ibérico
  - b) Sistema Central**
  - c) Sistema Penibético
  
7. Actualmente los humedales tienen un elevado valor
  - a) Ambiental**
  - b) Inmobiliario
  - c) Carecen de valor inmobiliario por la humedad de sus suelos
  
8. La mortalidad infantil en España
  - a) Es de las más bajas del mundo
  - b) Está en torno a 10 muertos cada 1000 nacimientos**
  - c) No se registra esta estadística



 03100759		Geografía (PCE)		100
		PRUEBA DE ACCESO A LA UNIVERSIDAD		
Junio - 2017	Duración: 90 min.	EXAMEN: Tipo - Mixto	MODELO 05	
Ninguno				Hoja 3 de 5

9. En el ordenamiento jurídico y territorial de España ¿Existen ciudades autónomas?
- Sí, Madrid y Barcelona
  - Sí, Barcelona, Bilbao y Sevilla
  - Sí, Ceuta y Melilla**
10. El aeropuerto español con mayor tráfico de pasajeros, a lo largo de la historia y actualmente, es
- Madrid-Barajas Adolfo Suárez**
  - Madrid Cuatro Vientos
  - Barcelona-El Prat

### ENGLISH

Mark the option that best responds to the question. There is only one correct option per question.



- In cartography, green colors indicate
  - An area free from pollution
  - Fertile lands
  - Areas with low altitudes above sea level (<200m)
- The configuration of the Spanish relief, as we appreciate it today, is the result of
  - Hercynian orogeny
  - Alpine orogeny
  - Caledonian orogeny
- The peninsular oceanic climate is characterized by
  - Great precipitation and summertime droughts
  - Regular year-round precipitations
  - Annual precipitations exceeding 900 mm and summer precipitation having lower volumes than those of the winter
- Heat waves are associated with atmospheric situations from
  - Levante
  - The south
  - The southwest
- Where can one find annual precipitations >1000 mm in Spain?
  - Only on the Cantabrian coast
  - In the Cantabrian Coast, Galician Atlantic and mountain areas
  - Nowhere in Spain are such high precipitations recorded
- The Guadarrama Mountains are part of
  - The Iberian system
  - The Central System
  - The Penibaetic System

 <b>03100759</b>		Geografía (PCE)		100
		PRUEBA DE ACCESO A LA UNIVERSIDAD		
Junio - 2017	Duración: 90 min.	EXAMEN: Tipo - Mixto	MODELO 05	
Ninguno				Hoja 4 de 5

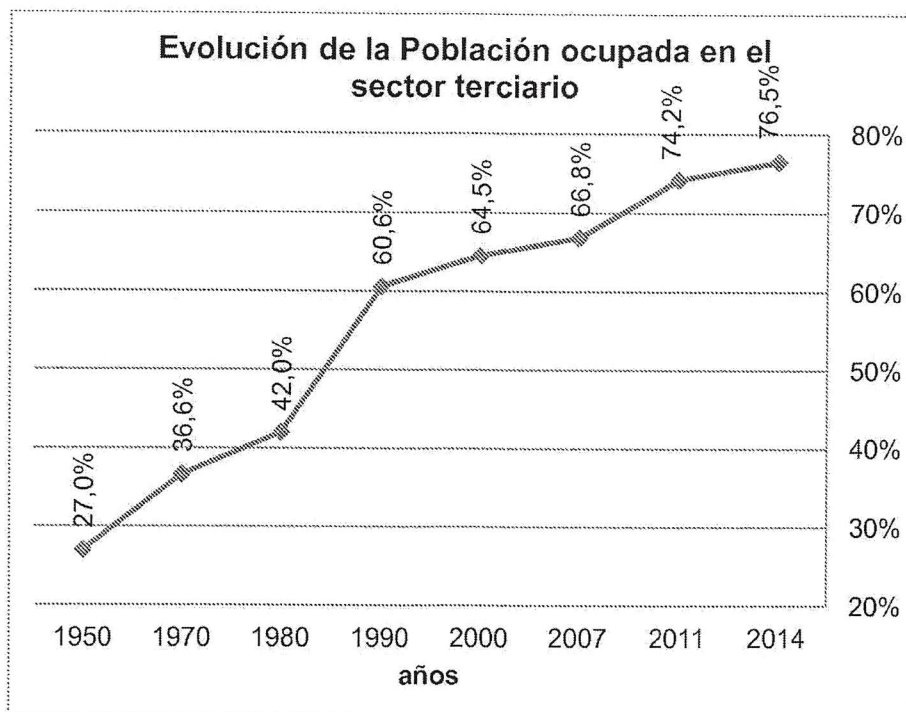
- 7 Currently, the wetlands have a high value in terms of
  - a) Environment
  - b) Real estate
  - c) They lack a real estate value due to the humidity of their lands
  
- 8 Infant mortality in Spain
  - a) Is of the lowest in the world
  - b) Is approximately 10 deaths per 1000 births
  - c) This statistic is not recorded
  
- 9 In the Spanish legal and territorial system, are there autonomous cities?
  - a) Yes, Madrid and Barcelona
  - b) Yes, Barcelona, Bilbao and Sevilla
  - c) Yes, Ceuta and Melilla
  
- 10 The Spanish airport with the most passenger traffic throughout history and today is
  - a) Madrid-Barajas Adolfo Suárez
  - b) Madrid Cuatro Vientos
  - c) Barcelona-El Prat

**PRUEBA DE DESARROLLO  
(CONTESTE DOS DE LAS CUATRO PREGUNTAS)**



- a. Características de la red ferroviaria española.
- b. La situación atmosférica del Norte: disposición de los centros de acción, características termoplumiométricas asociadas a este tipo de tiempo, estacionalidad preferente.
- c. Las dos principales fuentes estadísticas para el estudio demográfico: características, información que aporta, administraciones competentes y difusión de la información.
- d. La industria española en la actualidad: problemas, características, fortalezas y principales subsectores industriales que destacan por su importancia económica y exportadora.

 03100759		Geografía (PCE)		100
		PRUEBA DE ACCESO A LA UNIVERSIDAD		
Junio - 2017	Duración: 90 min.	EXAMEN: Tipo - Mixto	MODELO 05	
Ninguno				Hoja 5 de 5

### PRUEBA PRÁCTICA



- Explique qué se entiende por el sector terciario.
- Enumere los principales subsectores que integran el terciario
- Describa las causas que explican el incremento del sector terciario español
- ¿Qué sectores han disminuido para que se incremente el sector terciario?
- ¿El turismo ha tenido importancia en el desarrollo del sector terciario? Razone la respuesta.

 <b>03100759</b>		Geografía (PCE)		100
		PRUEBA DE ACCESO A LA UNIVERSIDAD		
	Septiembre - 2017	Duración: 90 min.	EXAMEN: Tipo A Mixto	MODELO 12
Ninguno				Hoja 1 de 5

MODELO 12

**INSTRUCCIONES GENERALES**

- El examen consta de tres partes de contestación obligatoria cada una de ellas.
- No está autorizado el uso de ningún tipo de material.
- Las respuestas deben realizarse en español.



**Criterios generales de evaluación:**

- En la prueba objetiva el acierto en la respuesta.
- En las preguntas de desarrollo: el ajuste de la respuesta a lo preguntado, la precisión de los términos geográficos, el orden expositivo, la ortografía y corrección sintáctica.
- En la práctica: el análisis y la interpretación concisa del gráfico o mapa de que se trate, así como la localización y enumeración correcta de los aspectos geográficos preguntados, siguiendo el esquema que se le proponga o su propio criterio si no se le indica otra cosa, así como la ortografía y la corrección sintáctica.

La puntuación final será el resultado de la suma de los tres apartados:



- La prueba objetiva ponderará el 30% de la nota total del examen
- La prueba de desarrollo ponderará el 40% de la nota total del examen
- La prueba práctica ponderará el 30% de la nota total del examen.

**NO OLVIDE ENTREGAR EL ENUNCIADO**

 <b>03100759</b>		Geografía (PCE)		100
		PRUEBA DE ACCESO A LA UNIVERSIDAD		
Septiembre - 2017		Duración: 90 min.	EXAMEN: Tipo A Mixto	MODELO 12
Ninguno				Hoja 2 de 5

**PRUEBA OBJETIVA**  
**SEÑALE LA OPCIÓN CORRECTA EN FUNCIÓN DEL ENUNCIADO**  
**(CONTESTE EN LA HOJA DE LECTURA ÓPTICA QUE SE LE ENTREGARÁ CON EL EXAMEN)**

1. ¿Qué opción se ajusta más a la definición de paisaje cultural?
  - a) Es el que los pintores plasman en sus cuadros
  - b) Es la expresión fisonómica de la superficie terrestre como resultado de la interacción de la actividad humana con los elementos del medio físico**
  - c) Es aquel que se cultiva
  
2. En un mapa de escala 1/100 000 la distancia en línea recta que separa a dos ciudades es de 22,5 cm. ¿Cuál es la distancia real, en línea recta, entre ambas ciudades?
  - a) 2250 metros
  - b) 225 metros
  - c) 22 500 metros**
  
3. Las regiones de litología caliza son muy frecuente en España, especialmente en
  - a) Galicia
  - b) Extremadura
  - c) En las cordilleras de plegamiento de edad alpina**
  
4. La gota fría es un fenómeno meteorológico
  - a) Exclusivo de las costas mediterráneas
  - b) Que provoca un descenso generalizado de las temperaturas (gota fría)
  - c) Caracterizado por el embolsamiento de aire frío en las capas altas de la atmósfera que puede originar precipitaciones muy intensas, aunque no siempre**
  
5. ¿Qué representa una isoterma en un mapa?
  - a) Los puntos con el mismo valor de calor
  - b) Los puntos con el mismo grado de temperatura**
  - c) Los puntos con igual valor de altitud
  
6. El alcornoque (*quercus suber*) es un árbol típico del clima mediterráneo
  - a) No, es del clima oceánico porque tiene elevadas necesidades de humedad
  - b) Especialmente se localiza en el sudeste peninsular
  - c) Su región de máximo desarrollo se encuentra en Extremadura**
  
7. Los mares mesozoicos dejaron sedimentos en toda España
  - a) Sí, excepto en Canarias que no hay sedimentos de origen marino de esa edad
  - b) Solo en las áreas más próximas a las costas
  - c) Los mares mesozoicos llegaron a cubrir, total o parcialmente, la mitad oriental de la actual España peninsular hasta aproximadamente el meridiano que pasa por Segovia.**
  
8. La tendencia de la tasa de mortalidad general, en España, es en los últimos años de
  - a) Incremento año tras año por el envejecimiento de la población**
  - b) Incremento año tras año por el descenso de la natalidad
  - c) Descenso por el incremento del nivel de vida

 03100759		Geografía (PCE)		100
		PRUEBA DE ACCESO A LA UNIVERSIDAD		
Septiembre - 2017	Duración: 90 min.	EXAMEN: Tipo A Mixto	MODELO 12	
Ninguno			Hoja 3 de 5	



9. El paisaje agrario del norte de España se caracteriza por
- Su poblamiento concentrado
  - b) El predominio del minifundio**
  - El predominio de campos abiertos
10. La Comunidad Autónoma más extensa es
- Andalucía
  - Castilla La Mancha
  - c) Castilla y León**

### ENGLISH



Mark the option that best responds to the question. There is only one correct option per question.

- 1 Which is the best definition of cultural landscape?
- That which painters depict in their paintings
  - The physiognomic expression of the land surface as a result of the interaction of human activity with the elements of the physical environment
  - That which is cultivated
- 2 In a map with a scale of 1/100 000, the distance, in a straight line, that separates two cities is 22.5 cm. What is the real distance, in a straight line, between these cities?
- 2250 meters
  - 225 meters
  - 22 500 meters
- 3 Regions of limestone lithology are very frequent in Spain, especially in
- Galicia
  - Extremadura
  - In the mountain ranges of the Alpine age folding
- 4 The cold drop is a meteorological phenomenon that
- Is exclusive to Mediterranean coasts
  - Causes a generalized decrease in temperatures (cold drop)
  - Is characterized by the encircling of cold air in the upper layers of the atmosphere that may lead to very intense precipitations, although not always



 03100759		Geografía (PCE)		100
		PRUEBA DE ACCESO A LA UNIVERSIDAD		
Septiembre - 2017	Duración: 90 min.	EXAMEN: Tipo A Mixto	MODELO 12	
Ninguno			Hoja 4 de 5	

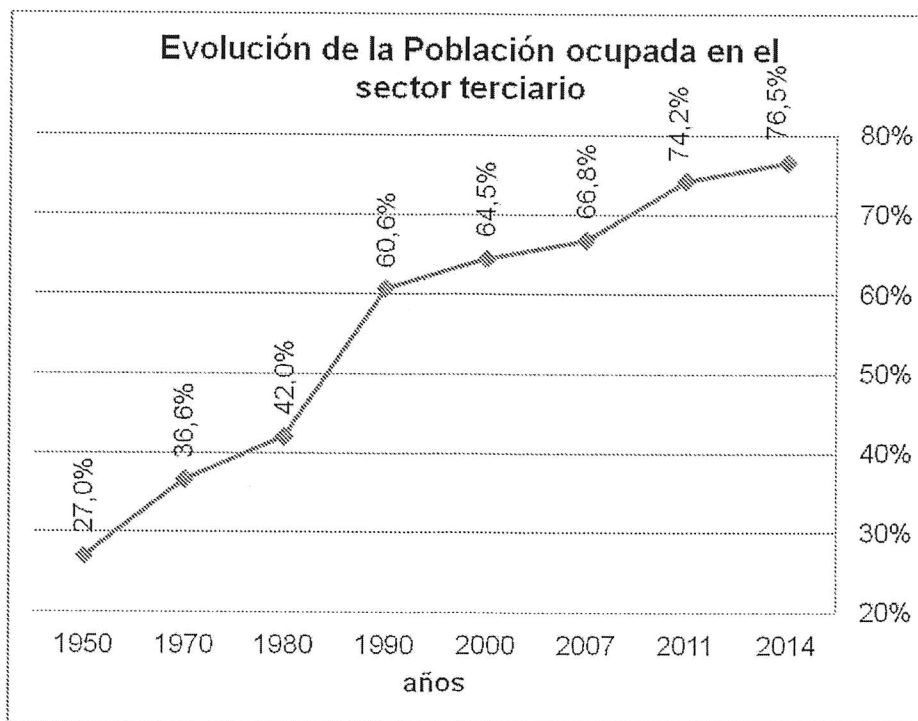
- 5 What does an isotherm represent on a map?
  - a) Points having the same heat value
  - b) Points having the same temperature degree
  - c) Points having an equal altitude value
  
- 6 The cork tree (*quercus suber*) is a tree that is typical of the Mediterranean climate
  - a) No, it is typical of the Oceanic climate given that it needs large quantities of humidity
  - b) It is mainly located in the southeast of the Peninsula
  - c) Its region of maximum development is located in Extremadura
  
- 7 The Mesozoic seas left sediments across Spain
  - a) Yes, except for the Canary Islands, where there are no marine sediments of this age
  - b) Only in areas closest to the coasts
  - c) The Mesozoic seas come to cover all or part of the eastern half of current peninsular Spain, until approximately the meridian that passes through Segovia
  
- 8 The trend for the general mortality rate in Spain over recent years is
  - a) Increase year by year due to the ageing population
  - b) Increase year by year due to decrease in births
  - c) Decrease due to the increased living standard
  
- 9 The agricultural landscape of northern Spain is characterized by
  - a) A concentrated population
  - b) The predominance of small holdings
  - c) A correspondence with the open field types
  
- 10 The most extensive community is
  - a) Andalusia
  - b) Castilla La Mancha
  - c) Castile and León

 <b>03100759</b>	 Septiembre - 2017	Geografía (PCE)		100
		PRUEBA DE ACCESO A LA UNIVERSIDAD		
Ninguno		Duración: 90 min.	EXAMEN: Tipo A Mixto	MODELO 12
				Hoja 5 de 5

**PRUEBA DE DESARROLLO  
(CONTESTE DOS DE LAS CUATRO PREGUNTAS)**

- La distribución de las precipitaciones en España: cite las áreas con mayor y menor precipitación, indicando una cifra de referencia de los mm anuales de precipitación. ¿Existe relación entre la precipitación y la configuración del relieve peninsular?
- Describa la disposición típica de los centros de acción para que a la península le afecte una situación atmosférica del oeste. ¿En qué regiones lloverá más? ¿Se producirán bajadas generalizadas de las temperaturas? Explique los tipos de tiempo asociados a esta situación según las regiones afectadas
- Los movimientos emigratorios exteriores españoles en el siglo XX. Cite dos atendiendo a su destino, características de la emigración, lugares de origen y periodos de emigración.
- Las áreas volcánicas españolas. Enumérelas, características geológicas y cronología.

**PRUEBA PRÁCTICA**



- Explique qué se entiende por el sector terciario.
- Enumere los principales subsectores que integran el terciario
- Describa las causas que explican el incremento del sector terciario español
- ¿Qué sectores han disminuido para que se incremente el sector terciario?
- ¿El turismo ha tenido importancia en el desarrollo del sector terciario? Razone la respuesta.